



**Holiday Homework**  
**Academic Session : 2019-20**  
**Class - IV**

Name: \_\_\_\_\_

**English**

Q.1 Write capital cursive from *A* to *Z*.

Q.2 Write small cursive from *a* to *z*.

The image shows a sheet of handwriting practice paper. It features a vertical red margin line on the left side and horizontal blue lines for writing. At the top left, there is a faint box containing the word 'YOUVA' and a small diagram. At the top right, there is a box for 'Page No.' and 'Date', and another box with the word 'YOUVA' and a small diagram.

Q.3 Look for the underlined noun in each sentence. Tell if the noun is person, place or thing.

## Nouns

A *noun* names a person, place, or thing.

1. The museum is closed on Sunday. place
2. The car was parked in front of the house. \_\_\_\_\_
- 3 She was trying to catch the ball. \_\_\_\_\_
4. I could not see the boy in the crowd. \_\_\_\_\_
5. Chips are my favorite snack. \_\_\_\_\_
6. I checked out two books from the library. \_\_\_\_\_
7. My teacher is very nice to the class. \_\_\_\_\_
8. We watched the last leaf fall. \_\_\_\_\_
9. He left his backpack at the school. \_\_\_\_\_
10. The doctor gave me a sucker. \_\_\_\_\_

1. नीचे बॉक्स में दिए गए उद्देश्यों में से सही उद्देश्य चुनकर रिक्त स्थान भरिए—

मोर, किसान, सीता, शेर, हिमालय, विद्यालय में

- (क) ..... भारत का पहरेदार है। (ख) ..... खेती करता है।  
(ग) ..... जंगल का राजा है। (घ) ..... वर्षा ऋतु में नाचता है।  
(ङ) ..... हरे-भरे वृक्ष और रंगीन फूल हैं। (च) ..... राम की पत्नी थी।

2. नीचे दिए गए वाक्यों में से उद्देश्य और विधेय छाँटकर लिखिए—

	उद्देश्य	विधेय
(क) जून के महीने में बहुत गर्मी पड़ती है।	.....	.....
(ख) साँप बहुत जहरीला होता है।	.....	.....
(ग) भिखारी ने फटे कपड़े पहने हैं।	.....	.....
(घ) आम फलों का राजा है।	.....	.....
(ङ) हम कल सरकस देखने गए थे।	.....	.....
(च) लोमड़ी एक चालाक जानवर है।	.....	.....
(छ) बच्चा रो रहा है।	.....	.....

3. निम्नलिखित शब्दों से वाक्य बनाइए—

परिश्रम, खुशबू, क्रिकेट, धोबी, मिठाई

- (क) .....  
(ख) .....  
(ग) .....  
(घ) .....  
(ङ) .....

नीचे बॉक्स में लिखे शब्दों में से निरर्थक शब्द छाँटकर उनसे सार्थक शब्द बनाइए—

नीपा, इलीम, डालडा, अमन, सकरस, गमला, काली, तभार, खिड़की, टटमार, लूआ, करेला, बिजली, थीमे, तलरवा, कहानी, रज़ाबा, रज़ाई, ईपारचा, लकड़ी।

निरर्थक शब्द

सार्थक शब्द

(क) .....

(क) .....

(ख) .....

(ख) .....

(ग) .....

(ग) .....

(घ) .....

(घ) .....

(ङ) .....

(ङ) .....

(च) .....

(च) .....

(छ) .....

(छ) .....

(ज) .....

(ज) .....

(झ) .....

(झ) .....

(ञ) .....

(ञ) .....

## Maths

Q.1 Circle the greatest number.

- i) 53,689      69,571                      ii) 8,71,056      8,17,056  
iii) 1,68,258      3,72,560                      iv) 6,40,500      3,40,500

Q.2 Write the following in ascending order.

- i) 4, 97,721 ;    2,12,347;    5,65,998;    3,24,678

sol \_\_\_\_\_

- ii) 8,98,721;    8,98,541;    8,98,998;    8,98654

sol \_\_\_\_\_

Q.3 Write in standard form.

- i)  $5000 + 600 + 70 + 9$  = \_\_\_\_\_  
ii)  $90000 + 7000 + 400 + 40 + 3$  = \_\_\_\_\_  
iii)  $(2 \times 10000) + (1 \times 1000) + (3 \times 100) + 6 \times (10) + 8$  = \_\_\_\_\_  
iv)  $(8 \times 100000) + (5 \times 100) + (6 \times 10) + 4$  = \_\_\_\_\_

Q.4 Write the number name of the following.











- i) 25,886 = \_\_\_\_\_  
ii) 10,132 = \_\_\_\_\_  
iii) 2,47,630 = \_\_\_\_\_  
iv) 9,00,562 = \_\_\_\_\_

Q.5 Write the smallest 5 - digit number using the digits 9, 3, 5, 1 and 7. \_\_\_\_\_

Q.6 Write the greatest 6 – digit number using the digits 1, 0, 5, 9, 6 and 4. \_\_\_\_\_



Q.1 Fill in the missing letter:

	Au _ t		Unc _ e
	Mo _ her		Fa _ her
	S _ ster		Cous _ n
	G. _ ather		G. _ other
	S _ n		Child _ en

Q.2 Match the following:

Uncle

Brother

Mother

Grandmother

Nephew

Wife

Son

Great grandfather

Grandfather

Daughter

Aunt

Great grandmother

Husband


Sister

Father

Niece



Q.3 Make your own family tree:



Q.4 Tick the correct answers

**A. How many sense organs do we have ?**

1 Three    2 six    3 five

**B. Which sense organ tells us that door bell is ringing?**

1 Ear    2 Nose    3 Skin

**C. Which sense organ tells us that cactus is sharp?**

1 Ear    2 Tongue    3 Skin

**D. Which sense organ tells us that lemon is sour?**

1 Eyes    2 Nose    3 Tongue

.....